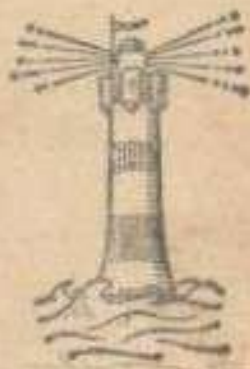




**UNIVERSIDADE FEDERAL DA PARAÍBA**  
**PROJETO DE INICIAÇÃO CIENTÍFICA**  
**O ARQUIVO DA PROFESSORA ESTELITA ANTONINO DE SOUZA: FONTE**  
**PARA A HISTÓRIA DA EDUCAÇÃO DA PARAÍBA**  
**COORDENADORA DA PESQUISA: FRANCYMARA ANTONINO NUNES DE**  
**ASSIS**

CATALOGAÇÃO DAS  
FONTES SÉRIE: CADERNOS  
ESCOLARESREGISTRO  
SIMPLES

<b>Título</b>	Testes.
<b>Autora</b>	Estelita Antonino de Souza
<b>Resumo</b>	Caderno de Testes. Abril, Paraíba. 4º ano primário. O caderno contém assuntos relacionados a testes de português, matemática, ciências e religião.
<b>Descrição</b>	O caderno pautado possui formato retangular e está com capa. A capa possui alguns desenhos e o nome piloto, apresenta o nome "Testes", logo depois 4º ano primário e o nome "Estelita Antonino". Está preenchido com caneta esferográfica. Contém 32 páginas. Item digitalizado por Maria Laysa Conrado dos Santos e Rafaela da Costa Pessoa.
<b>Data</b>	1970



# PILÔTO

MARCA REGISTRADA



*Testes*

---

*4º ano primario*

---

*Estelita Antonino*





15  
09  
25  
21  
78

1492  
300  
1792

46  
19  
0

19  
3  
57 4  
17 14  
1

43  
13  
56

22  
3  
66 4  
26 16  
2

267 122  
047 12  
03

178  
140  
318 22  
098 14  
10

35  
8  
2  
0

22  
22  
0

20  
20  
0

30  
15  
91  
66

22  
32  
54

58

25  
11  
12  
51

## Teste 4º ano

1- A maior cidade do Nordeste é o  
- - - - - . Outras cidades nordestinas  
Campina Grande no - - - - - . Messoró  
no - - - - - , Garanhuns em - - - - - .

2- O Brasil é o maior país da  
- - - - - . Limita-se a leste  
com - - - - - .

3- A cira de cana-de-açúcar é produto  
característico da Região - - - - - .

( ) sul ( ) Nordeste ( ) Leste ( ) Sul  
( ) Centro-Oeste

4- Deu-se, em primeiro lugar, o  
descobrimento:

( ) do Brasil  
( ) do caminho marítimo para a Índia  
( ) da América



5- O tratado de Tordesilhas foi firmado entre - - - - e - - - -

6. A construção de açudes é principalmente utilizada:

- ( ) nos lugares onde há muitos rios
- ( ) nas zonas atacadas pelas secas
- ( ) nas regiões muito extensas
- ( ) nos terrenos onde há plantaça

7- Goiás é um estado central porque

8- O meio de transporte que ninguém poderia usar para ir de Belo Horizonte ao Rio de Janeiro.

- ( ) trem ( ) automóvel ( ) avião ( ) navio

9 ( ) Dividiu o Brasil em capitâncias ( ) Príncipe D. João

( ) Fundou a cidade de Olinda ( ) M. Afonso de S.

( ) Fundou a Vila de Santos ( ) D. João III

( ) Fundou a Vila de S. Vicente ( ) Duque de Albuquerque

10. A invenção que deu segurança de orientação aos navegadores.

## Religião

- 1- A Bíblia é o livro da - - - - -  
As duas partes são - - - - -
- 2- Jesus é o filho de - - - - - que  
se fez - - - - -
- 3- Deus é o - - - - - porque cria  
as criaturas inanimadas e dá vida  
às - - - - - e - - - - -
- 4- Adão e Eva perderam a amizade e os  
dons que Deus lhes deu. Chama-se o - - - - -  
- - - - - que foi transmitido - - - - -
- 5- Para novamente sermos filhos de  
Deus veio - - - - -



Português abril de 1970

## Leitura silenciosa

Marque a sentença que estiver de acordo com a primeira sentença em grifo:

O Trabalho dignifica o homem

- ( ) Devemos viver a custa dos trabalhos dos outros
- ( ) O homem não precisa de trabalhar.
- ( ) Todos devem procurar trabalhar
- ( ) Tempo perdido não se recupera.

Ditado: confortável - glória - vidraça - plantação - chapéu - princesa - riqueza - agricultor - residência - músculo.

Os cinco meninos obtiveram o primeiro lugar.

Qual o sujeito da oração  
Destaque o verbo da oração

Esse verbo tem sentido completo ou incompleto?

Qual a expressão que completa o sentido do verbo?

Qual a função dessa parte?

Quais os substantivos da oração?

Escreva a palavra que corresponde a flexão pedida:

jamal	(gran diminutivo)
útil	(plural)
reú	(feminino)
atriz	(masculino)
car	(augmentativo)
avéis	(singular)



## Matemática abril de 1970

1. Oblique o princípio distributivo nesta operação:

$$1342$$

$$\times 265$$


---

2. Escreva e tire a prova real.

3. Um conjunto de 5 múltiplos de 9 é . . . . .

4. Múltiplo é o número que além de ser dividido exatamente . . . . .

5. 45 e 90 são múltiplos comuns de . . . . ., . . . . ., . . . . ., . . . . .

6. Sublinhe o número divisível ao mesmo tempo por 3 e por 5:

$$63 - 350 - 25 - 32 - 105$$

7. O mínimo múltiplo comum de



30-3-1970 - 4º ano primário

## Teste

## 1- Leitura silenciosa

leia a palavra à esquerda, complete convenientemente, uma das sentenças abaixo:

- (1) chama-se ..... a gente que pratica o mal.  
 Benfiteira (1) Deve-se gratidão ao .....  
 (1) O homem que rouba a gente gentileza é um .....

## 2- 3- lembrança - escreva - útil - residência - mobiliário - adquirido - preço - automóvel - passeio - fisio-nomia

## 4- Faça a pontuação:

do vê-la passar, um sacerdote perguntou-lhe:

- É pesado, menina?

## 5- Faça a concordância

Os meninos ..... os pais (.....)

6- Nós ..... tudo (entender)



7- Eles estavam ..... (feliz)

Análise:

Mãe Preta contava lindas histórias na sala grande da fazenda

8 Mãe Preta -

9 lindas histórias

10 na sala grande da fazenda.



Usar os símbolos convenientemente

$\in \notin > < = \cap$

$d \dots \{a, e, i, o, u\}$

$A = \{a, b, c, d, e, f\}$

$B = \{b, c\}$

  $\dots$   $\{ \text{drawing of a duck} \text{ --- } \text{drawing of a pig} \} \{ \text{drawing of an apple} \text{ --- } \text{drawing of a pig} \text{ --- } \text{drawing of a banana} \}$

9  $\dots$  9, 5  $\dots$  8

20  $\dots$  4

Dê duas maneiras que eu posso ler este numeral 4.107.

O número de ordens e classes do número 2.534.602

Faca o arredondamento para:

a dezena mais próxima 273  $\dots$

a centena mais próxima 1296  $\dots$

$3 \times 2 \times (3 + 4)$



3. Os alimentos estragados são perigosos para a  
5. Os pulmões recebem . . . . .

Quais as propriedades aplicadas nestas operações

$$20 + 33 + 40 = 40 + 20 + 33 \dots\dots$$

$$20 + 33 + 40 = 10 + 10 + 33 + 40 \dots\dots$$

Tem algarismos romanos a data de hoje.

3 livros custam R\$8,40. Quantos livros poderei comprar com R\$33,60?

### Ciências

1. A respiração tem dois movimentos  
.....

2. O principal órgão da circulação é o ..... Ele recebe impulsão e o sangue que recebe das ..... e envia o para todo corpo pelas .....

3. Ao ser ingerido, o alimento sofre uma longa transformação que se chama .....

12 24 28 32 36 40 44 48 52 56 60 64 68 72 76 80 84 88 92 96 100  
14. A: dentes são ..... dentes  
O número de dentes e como são chamados.



$$10,00 \left( \frac{5}{2} \right) 5$$

$$4,80 \overline{) 12} \\ 00 \quad -4$$

a 9 e 12.

8- A Cooperativa Escolar vende uma dúzia de lápis por R\$ 4,80. Quanto gastará a professora que quiser dar um lápis a cada um de seus 22 alunos

## Estudos Sociais

1- O sangue sai do coração pelas  
- - - - - e chega ao coração pelas  
- - - - -

2- cite 3 subprodutos do petróleo

3- Numere a 2ª coluna de acordo com a 1ª:

(1) Influência  
europeia

( ) batuque

( ) árvore de Natal

(2) Influência  
africana

( ) vatapá

( ) enfeites com figas



3) Influência ( ) rede su maca indígena ( ) ovos de Páscoa.

4 - cite 3 figuras importantes da Inconfidência Mineira

5 - A primeira riqueza brasileira que se conheceu, atraindo até a pirataria estrangeira, foi o - - - -

6 - Das capitanias que mais prosperaram foram as de - - - -  
- - - - cujos donatários eram

7 - Um dos benefícios que a expedição de Martin Afonso de Sousa trouxe ao Brasil foi:

- ( ) a expulsão dos holandeses
- ( ) a introdução da cultura da cana.
- ( ) o começo do plantio da mandioca
- ( ) a descoberta das minas de ouro.



8 - A seca mata a vegetação e grande quantidade de animais, obrigando o homem a:

- ( ) desistir de trabalhar
- ( ) emigrar por algum tempo
- ( ) imigrar
- ( ) plantar cereais.

9 - O maior produtor de sal:  
S. Paulo - R. G. do Norte - Paraíba - Minas.

10 - Há uma importante indústria siderúrgica em:  
Ouro Preto - Barra Mansa - Juiz de Fora, Niterói.

1 - Estados que mais produzem babaçu  
( ) Amazonas e Pará ( ) S. Paulo e Minas  
( ) Sergipe e Pernambuco ( ) Maranhão e Piauí



# Biociências

1- O sangue sai do coração pelas  
----- e chega ao coração  
pelas -----.

2- A eliminação da água do  
nosso organismo é feita -----  
-----, e -----.

3- O que dá a cor verde às folhas  
é a ----- que decompõe  
o gás carbônico em -----.

4 a) Os vegetais contêm substan-  
cias indispensáveis ao organismo  
humano e que são chamadas,  
gorduras - fibras - vitaminas, gomos

b) Se cortarmos uma laranja limã  
ou caju com uma faca oxidável  
verificamos que deixam uma mancha  
escura produzida:



pela luz - pelo calor - pelo ácido -  
pelo vento, que elas contêm.

5. As árvores em presença da luz  
solar, enchem o ar de:  
vapor - nuvens - oxigênio - pó - chuva.

6. Os órgãos de reprodução do vege-  
tais são - - - - -

1. Foi no - - - - - que Jesus ressuci-  
tou.

Da - - - - - recebemos Jesus ressuci-  
tado.

2. Deus nos criou para  
- - - - -

3. Para com a Providência Divina  
devemos ser - - - - - e Ter  
- - - - -

4. Exemplo de 4 consequências  
do pecado.



5- Nossos . . . . . foram a única  
causa da . . . . . de Jesus.

Desenvolvimento da Unidade de Trabalho  
dentro do Folclore

Ritos rimas danças músicas  
folclóricas

músicas, danças superstições etc

6 gr. por semana  
fica com a 1ª via devon  
outras.

~~6~~ crachás

Em todos os estabelecimentos  
de Ensino deverá haver no dia  
4 de setembro uma palestra sobre  
a Independência. O Ministério de  
Educação há diretrizes sobre essa  
comemoração

Recomenda-se

Desfiles de juvenis, trajes  
Exibições folclóricas  
Competições esportivas



Qual a função do soldado?

A quem deve prestar dedicação?

Quais as funções?

Para que existe o soldado?

C S M 20 gr. de minério e bota Trigo.

Trigo C S M e óleo faz o bolo

cada criança recebe 20 gr.

34 alunos x 20

34 copos d'agua

$$\begin{array}{r} 34 \\ \underline{20} \\ 680 \text{ gr de leite} \end{array}$$

C 12 gr de

5

60 gr de Trigo

6 gr. por semana

fica com a 1ª via devolvida  
outras.

~~de~~ crachás

Em todos os estabelecimentos de Ensino deverá haver no dia 4 de setembro uma palestra sobre a Independência. O Ministério de Educação há diretrizes sobre essa comemoração

Recomenda-se

Desfiles de juvenis, tuades  
Exibições folclóricas  
Competições esportivas



Teste - 4º ano primario - 22.3.1972

1. Leitura silenciosa

Com a palavra BENFEITOR  
complete convenientemente uma  
das sentenças:

Chama-se \_\_\_\_\_ aquele que  
pratica o mal

Deve-se gratidão a \_\_\_\_\_

O homem que roubou aquela gente  
é um \_\_\_\_\_

2. automóvel - sozinho - lembrança  
resultado - cântico

3. Faça a pontuação:

Ào vê-la passar, um sacerdote  
perguntou-lhe:

— É pesado, menina?

3. Faça a concordância

4. Nós - - - - - tudo (entender)

5. Círculos estavam \_\_\_\_\_ (feliz)

6. Sublinhe as palavras variáveis  
conjunção - artigo - adjetivo - preposi-  
ção - substantivos - advérbios.

7. Coloque a crase onde couber;  
Tive a mãe e levei a menina  
a igreja.

8. Classifique estas palavras quanto  
à acentuação tônica; e número de sílabas.  
próspero \_\_\_\_\_ pé \_\_\_\_\_  
boletim \_\_\_\_\_ livro \_\_\_\_\_

9. Risque os ditongos e sublinhe  
os hiatos;  
Paulo - saúde - miúdo - meu  
Paraiíba.

10. O conjunto de regras que ensinam  
a escrever e ler corretamente;  
língua - gramática - vogais.



## Matemática

1. Usar os símbolos convenientemente:  $\in$   $\notin$   $>$   $<$   $=$

d ..... { a, e, i, o, u }

 ..... {  {  }

9 ..... 9, 5 ..... 8, 20 ..... 4

2. O número de ordens e classes do número: 2 5 3 4 6 0 2

3. Os nomes das classes que tem este número

4. O valor absoluto e o relativo do algarismo 4 no numeral acima.

4. Faça o arredondamento para;

5. a dezena mais próxima 273

6. centena " " 1296

7. Em algarismos:

um milhão e quatro unidades

8. Escreva por extenso

10.020.000

9. Em algarismos romanos a data de hoje.

10 - Em ordinais:

38 \_\_\_\_\_

63 \_\_\_\_\_

Teste - Est. Sociais - 24-3-1972

1 - Duas causas das grandes navegações.

2 - Colombo planejou chegar às Índias, viajando pelo Atlântico.

3 - Deu-se em primeiro lugar o descobrimento:

( ) do Brasil

( ) do caminho marítimo para a Índia

( ) da América



4 - A 1ª expedição exploradora foi comandada por \_\_\_\_\_, as expedições de patrulhamento foram comandadas por \_\_\_\_\_.

5 - Numere a 2ª coluna de acordo com a 1ª.

- |                 |                          |
|-----------------|--------------------------|
| (1) Tupi        | ( ) Instrumento de pesca |
| (2) flecha      | ( ) Arma indígena        |
| (3) cacique     | ( ) Tribo indígena       |
| (4) tupiniquins | ( ) Chefes indígenas     |
| (5) pucás       | ( ) Nacão indígena       |

6 - A superfície do Brasil

6 - O território do Brasil mede \_\_\_\_\_ sua população é \_\_\_\_\_.

7 - O Brasil divide-se em \_\_\_\_\_ estados e \_\_\_\_\_ regiões.

8 - 4 estados da Região Nordeste com suas capitais \_\_\_\_\_.

9- O Brasil é o maior país do América do Sul limita-se a leste com \_\_\_\_\_

10 Campina Grande fica na \_\_\_\_\_  
\_\_\_\_\_ Mossoró no  
\_\_\_\_\_ Orlado em  
\_\_\_\_\_ brato no \_\_\_\_\_

### ciências

1. Classificar os órgãos seguintes conforme o aparelho a que pertencem

- a) coração \_\_\_\_\_
- b) estômago \_\_\_\_\_
- c) bexiga \_\_\_\_\_
- d) pulmão \_\_\_\_\_

2. <sup>1</sup> Inspiração é ar \_\_\_\_\_  
levando o \_\_\_\_\_

3. <sup>2</sup> Expiração é ar \_\_\_\_\_  
liberando o \_\_\_\_\_



3- O tubo digestivo se compõe de:

4- Numere a 2: coluna de acordo com a 1ª

- |                   |                        |
|-------------------|------------------------|
| (1) aurícula      | ( ) veia               |
| (2) aorta         | ( ) principal oído     |
| ( ) pulmões       | ( ) divisão do coração |
| ( ) cava superior | ( ) artéria            |

5- A parte útil dos alimentos é absorvida pelo \_\_\_\_\_ e a parte inaproveitável segue para o \_\_\_\_\_

### Teste de Portugues

#### 1. Leitura silenciosa

Marque a sentença que estiver de acordo com o trecho abaixo;

antes de despontar o dia, já a enxada

do agricultor mergulha na terra.

- (1) O roceiro acorda tarde porque trabalha muito
- (1) O camponês trabalha ao sol e a chuva.
- (1) O homem não gosta do trabalho.
- (1) Desde cedo começa o lavrador a sua tarefa

2. Ditado: horizonte - begerinho - rápido  
melancólico - atravessa

3 - Numere a 2ª coluna de acordo com a 1ª.

- |                |               |
|----------------|---------------|
| (1) rebanks    | (3) comum     |
| (2) alegria    | (5) composto  |
| (3) livro      | (4) derivados |
| (4) casarão    | (1) coletivo  |
| (5) para raies | (1) próprio   |
|                | (2) abstrato  |

4 - Passa para o feminino

O irmão do dentista é cantor

5 Para o plural:



O jovem doutor é útil à sua terra.

6- Para o aumentativo

O homem é pobre.

7 Para o diminutivo


O animal vive perto da casa.

Os galos cantavam alegremente  
no galinheiro

8. Sublinhe os substantivos encontrados na oração

9. O sujeito da oração -

10 - O adjunto adverbial de lugar





# HINO NACIONAL

Poema de Joaquim Osório Duque Estrada

## I

Ouviram do Ipiranga as margens plácidas  
De um povo heróico o brado retumbante,  
E o sol da Liberdade, em raios fúlgidos,  
Brilhou no céu da Pátria nesse instante.

Se o penhor dessa igualdade  
Conseguimos conquistar com braço forte,  
Em teu seio, ó Liberdade,  
Desafia o nosso peito a própria morte!  
Ó Pátria amada,  
Idolatrada,  
Salve! Salve!

Brasil, um sonho intenso, um raio vívido  
De amor e de esperança à terra desce,  
Se em teu formoso céu, risonho e límpido,  
A imagem do Cruzeiro resplandece.

Gigante pela própria natureza,  
És belo, és forte, impávido colosso,  
E o teu futuro espelha esta grandeza.

Terra adorada,  
Entre outras mil,  
És tu, Brasil.  
Ó Pátria amada!

Dos filhos deste solo és mãe gentil,  
Pátria amada,  
Brasil!

## II

Deitado eternamente em berço esplêndido,  
Ao som do mar e à luz do céu profundo,  
Fulguras, ó Brasil, florão da América,  
Iluminado ao sol do Novo Mundo!

Do que a terra mais garrida  
Teus risonhos, lindos campos têm mais flores,  
"Nossos bosques têm mais vida",  
"Nossa vida" no teu seio "mais amores".

Ó Pátria amada,  
Idolatrada,  
Salve! Salve!

Brasil, de amor eterno seja símbolo  
O lábaro que ostentas estrelado,  
E diga o verde-louro desta fâmula  
— Paz no futuro e glória no passado.

Mas, se ergues da justiça a clava forte,  
Verás que um filho teu não foge à luta,  
Nem teme, quem te adora, a própria morte.

Terra adorada,  
Entre outras mil,  
És tu, Brasil,  
Ó Pátria amada!

Dos filhos deste solo és mãe gentil,  
Pátria amada,  
Brasil!

